

# Když se hranice mění



**MALÁ ALE NAŠE**



EVROPSKÁ UNIE  
Evropské strukturální a investiční fondy  
Operační program Výzkum, vývoj a vzdělávání



MINISTERSTVO ŠKOLSTVÍ,  
MLÁDEŽE A TĚLOVÝCHOVY





## Pozorně si prohlédněte mapu a odpovězte na otázky.

Když se hranice mění



MAPA ZVĚTŠENÍ



1. Kdy mohla být mapa vydána?
2. Popište změny na mapě, které se udály ve srovnání s obdobím dvacátých let.
3. S jakými státy sousedilo Československo?
4. Najdi na mapě město, ve kterém bydlíš. Bylo stále součástí Česko-Slovenské republiky?





**Rozdělte se do dvojic.**



**Když se hranice mění**

**Prostudujte si následující fotografie a popisy k nim. Na fotografiích jsou zobrazena místa, která muselo Československo odstoupit Německu, Polsku nebo Maďarsku.**

**Na základě fotografie a popisu doplňte ze seznamu, o které místo se jedná.**

**Fotografie 1-2**  **Když se hranice mění**



Pamatujete se na scény ze sobotních odpolední na rákoska pražských místech, rozkládá kolem vrcholického sadu. Tada velkýchautokarů nabírá lidí v lyžařských dresích, ukládá svazky lyží nastřechu a odváží tak sta a sta lyžařů na nejkrásnější weekend – do **xxxxxx**.

K mnoha odstoupeným místům v Čechách a na Moravě se váže nejen náš národní a hospodářský život, nýbrž i naše kulturní dějiny. Tak byl v Litoměřicích pohřben K. H. Mácha a jiné severočeské místo. Doleky se svým jezerem, bylo dějištěm Machovy slavné romantické války.

Název místa: Vyber název místa  
Číslo na mapě: 0

Název místa: Vyber název místa  
Číslo na mapě: 0

**FOTOGRAFIE**

**Následně k fotografii přiřad'te správné číslo podle toho, kde se místo na mapě nachází.**



**MAPA**

**Na práci máte 10 minut.**

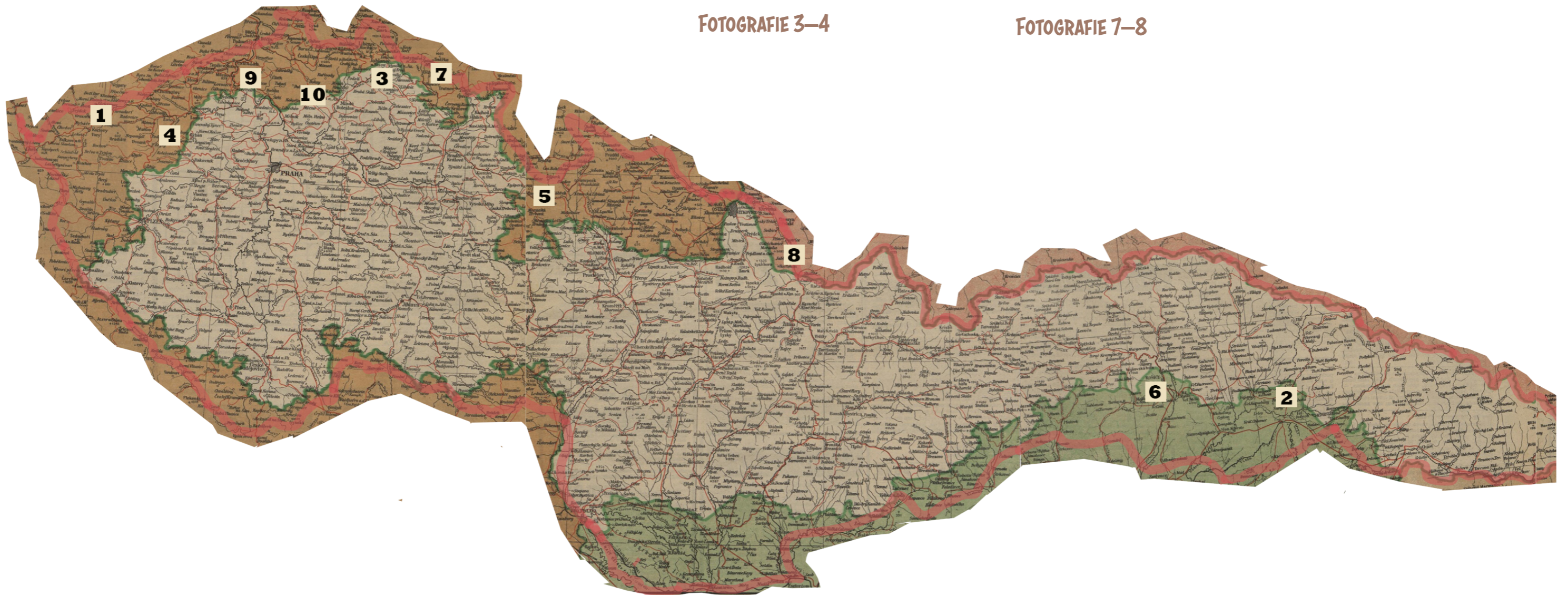
FOTOGRAFIE 1–2

FOTOGRAFIE 5–6

FOTOGRAFIE 9–10

FOTOGRAFIE 3–4

FOTOGRAFIE 7–8



# Fotografie 1–2

MAPA

Když se hranice mění



Pamatujete se na scény ze sobotních odpolední na několika pražských místech, zvláště kolem Vrchlického sadů: řada velkých autokárů nabírá lidi v lyžařských dresech, ukládá svazky lyží na střechu a odváží tak sta a sta lyžařů na nejkrásnější weekend – do \*\*\*\*\*.

**Název místa:**

**Číslo na mapě:**



K mnoha odstoupeným místům v Čechách a na Moravě se váže nejen náš národní a hospodářský život, nýbrž i naše kulturní dějiny. Tak byl v Litoměřicích pohřben K. H. Mácha a jiné severočeské místo, Doksy se svým jezerem, bylo dějištěm Máchovy slavné romantické vidiny.


**Název místa:**

**Číslo na mapě:**

# Fotografie 3–4

## MAPA

Když se hranice mění



Čím nám byly  
\*\*\*\*\* a celý  
lázeňský trojú-  
helník západních  
Čech, není snad  
třeba objasňovat.  
Sjížděly se sem za  
ztraceným zdra-  
vím a za příjem-  
ným odpočinkem  
statisíce lidí z re-  
publiky.



Z měst, jež jsme  
odstoupili Polsku,  
připadá zvláštní  
význam Třinci,  
v němž jsou velké  
železářny Bář-  
ské a hutní spo-  
lečnosti. \*\*\*\*\*  
\*\*\*\*\* se stanou  
pro velké území  
Polska jistě velmi  
vítaným průmys-  
lovým doplňkem.

Název místa:

Číslo na mapě:

Název místa:

Číslo na mapě:

# Fotografie 5–6

MAPA

Když se hranice mění



V severovýchodních Čechách jsou naše ztráty stejně bolestné jako na ostatních stranách hranic. I zde jsme přišli o oblasti průmyslové (Trutnov, Vrchlabí) jako zemědělské, o kraje německé i české. Ale přišli jsme i o jednu z nejkrásnějších částí naší přírody, pohraniční pásmo \*\*\*\*\* \*\*.

Název místa:

Číslo na mapě:



Chmelařská oblast \*\*\*\*\* připadla skoro celá Třetí říši a stane se jistě pro německý průmysl pivovarský vítanou akvizicí.

Název místa:

Číslo na mapě:



# Fotografie 7–8

## MAPA

Když se hranice mění



Dvěma největšími průmyslovými středisky na severu byl Liberec a \*\*\*\* \*\*.

Kdežto však Liberec byl převážně městem textilním a německým, je \*\*\*\* sídlem velkého průmyslu chemického, potravinářského, uhelného a městem jazykově smíšeným s mnoha tisíci českého obyvatelstva.



Pohled na náměstí v odstoupených \*\*\*\*\*. Uprostřed budova stálého \*\*\*\*\* divadla..

Název místa:

Číslo na mapě:

Název místa:

Číslo na mapě:

# Fotografie 9–10

MAPA

Když se hranice mění



Doposud hlavní město Podkarpatské Rusi. Na fotografii je vyobrazen \*\*\*\*\* zámek.

Název místa:

Číslo na mapě:



Mluví-li se po celém světě o českém sklu, bylo to tím často míněno \*\*\*\*\* sklo a \*\*\*\*\* bižuterie. \*\*\*\*\* sám je vlastně jen střediskem onoho pojizerského kraje, v němž pracují – nebo také nuceně zahájejí – celé desítky drobných průmyslových závodů, z nichž vycházejí tisíce skleněné ozdoby do celého světa.

Název místa:

Číslo na mapě:



**Rozdělte se do skupin.**

**Každá skupina pracuje s jednou fotografií, která zobrazuje, jak se změnil život lidí po odstoupení území Československa.**

**Ve skupině popište, co se děje na fotografii a jakou změnu každodenního života zachycuje. Zaměřte se na aspekt života, který byl pro lidi nový.**

**Při popisu fotek vám mohou pomoci doprovodné otázky.**

**Následně ve skupinách prezentujte fotografie třídě.**

SKUPINA 1

SKUPINA 3

SKUPINA 5

SKUPINA 2

SKUPINA 4

# Skupina 1

Když se hranice mění



1. Co se na fotografii odehrává?

2. Kdo jsou podle vás lidé na fotografii?

3. Proč to dělají?

4. Co je zajímavé/nové na dění na fotografii? (Bylo to běžné?)

# Skupina 2

Když se hranice mění

1. Co se na fotografii odehrává?
2. Kdo jsou podle vás lidé na fotografii?
3. Proč to dělají?
4. Co je zajímavé/nové na dění na fotografii? (Bylo to běžné?)



# Skupina 3

Když se hranice mění



1. Co se na fotografii odehrává?

2. Kdo jsou podle vás lidé na fotografii?

3. Proč to dělají?

4. Co je zajímavé/nové na dění na fotografii? (Bylo to běžné?)

# Skupina 4


Když se hranice mění

1. Co se na fotografii odehrává?
2. Kdo jsou podle vás lidé na fotografii?
3. Proč to dělají?
4. Co je zajímavé/nové na dění na fotografii? (Bylo to běžné?)



# Skupina 5

Když se hranice mění




1. Co se na fotografii odehrává?

2. Kdo jsou podle vás lidé na fotografii?

3. Proč to dělají?

4. Co je zajímavé/nové na dění na fotografii? (Bylo to běžné?)





## Zamyslete se:

---



1. Do kterých oblastí života zasáhla změna hranic?
2. Jak ovlivnila změna hranic každodenní život obyvatel?
3. Proč lidé opouštěli své domovy? Kam se stěhovali?


# Konec hodiny

Když se hranice mění

Test

Líbila se ti hodina?





# Test

---

Když se hranice mění

1. O která z těchto míst přišlo Československo po mnichovské dohodě a vídeňské arbitráži?

- A) Máchovo jezero
- B) Bratislava
- C) Sněžka
- D) Tábor
- E) Olomouc
- F) Košice

2. Spojte, které oblasti Československa připadly po mnichovské dohodě okolním státům?

- |             |   |
|-------------|---|
| 1) Polsko   | A) Pohraniční oblasti jižního Slovenska a hlavní město Podkarpatské Rusi Užhorod.                                 |
| 2) Německo  | B) Oblast Těšínska.   |
| 3) Maďarsko | C) Pohraniční oblasti v severních, jižních, západních a východních Čechách a na severní a jižní Moravě a Slezska. |

1. Úvodní fotografie: Autor neveden. [ilustrace mapy] Ilustrace k článku Nové hranice ČSR. In: Pražský illustrovaný zpravodaj. Praha: Melantrich, 1938. roč. 4, č. 4, str. 2–3. (10. 11. 1938) – upraveno
2. Mapa Č-SR: Autor neveden. [mapa] Mapa Česko-Slovenska. Zpravodaj svým čtenářům. In: Pražský illustrovaný zpravodaj. Praha: Melantrich, 1938. roč. 1, č. 1. str. 18–19. (5. 1. 1939) – upraveno
3. Fotografie míst v ČSR: Autor neveden. [foto] Fotografie k článku Co nám vzali. In: Světozor. Praha: J. Otto, 1938. roč. 38, č. 38 . str. 713-715. (20. 10. 1938)
4. Fotografie Košic a Užhorodu: Autor neveden. [foto] Fotografie k článku Nové hranice ČSR. In: Pražský illustrovaný zpravodaj. Praha: Melantrich, 1938. roč. 4, č. 4, str. 2–3. (10. 11. 1938)
5. Fotografie z pohraničí: HÁJEK, Karel. [foto] Fotografie k článku Na sever od Prahy.... In: Pražský illustrovaný zpravodaj. Praha: Melantrich, 1938. roč. 46, č. 46. str. 8–9. (24. 11. 1938)